



J'élimine 2 exercices : numéros et
Je joue le joker sur l'exercice numéro

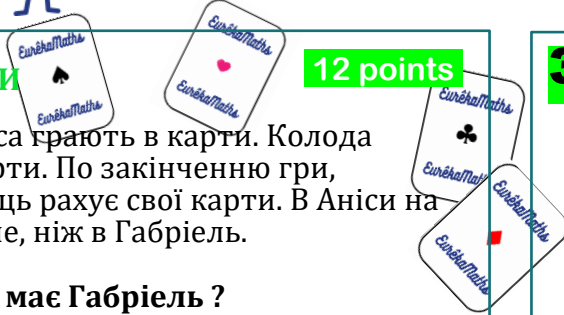


1 ГРА В КАРТИ

12 points

Габріель і Аніса грають в карти. Колода налічує 52 карти. По закінченню гри, кожний гравець рахує свої карти. В Аніси на 12 карті менше, ніж в Габріель.

Скільки карт має Габріель ?



3 КОСМОС

10 points

Сонячна система складається з 8ми планет. Користуючись ракетою, астронавт хоче « відвідати » усі планети.

Скільки злітів повинен здійснити астронавт, щоб відвідати усі планети лише раз ?



Astro reste sur la dernière planète !

2 ДЕВ'ЯТИ

8 points

Якщо будемо писати цілі числа від 1 до 100, скільки разів використаємо число 9 ?



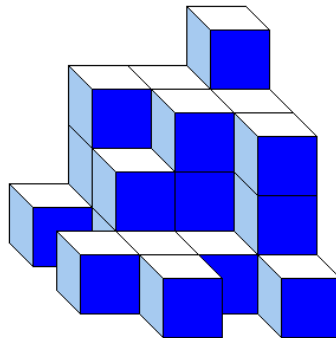
4 ВІДРО З КУБИКАМИ

10 points

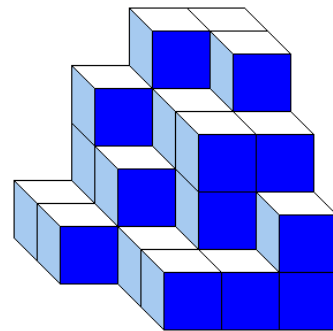
Відерце налічує 100 кубиків однакового розміру .Максанс і Ніна склали кожний свою конструкцію , використовуючи кубики з відерця .

Скільки кубиків залишилися невикористаними ?

Максанс



Ніна




5 ДОВЕСТИ ДО КІНЦЯ

12 points

Саша взяв усі свої заощадження і пішов до магазину. Знайшовши у перший магазин, він витратив половину своїх коштів + 1€. Знайшовши у другий магазин, він витратив половину залишку + 1€. Тепер його гаманець повністю порожній.

Скільки грошей було у Саші напочатку ?



6 ЛОГІЧНИЙ ЛАНЦЮЖОК

8 points

2	4	9	18	23	46	51 ?
---	---	---	----	----	----	----	---------

7 РЕСТОРАН

12 points

У ресторані є 10 столів : квадратну столи з 4ма стільчиками та круглий столи з 3ма стільчиками. Ресторан може приймати максимум 36 відвідувачів.

Скільки ці ресторани круглих столів ?




8 СУМА І ЧИСЛА

10 points

Ми – два цілих числа.
Якщо нас додати - отримаєш в сумі 31.
Якщо нас помножити - отримаєш 150.

Які ж ми числа ?





9 ЗАБІГ

8 points

Під час забігу, один з бігунів обігнав спочатку 4ого, потім 3ого, а потім 2ого учасника.

На якій же позиції перебуває цей бігун ?

10 ЗІРКА З ЧИСЕЛ

10 points

Розмістив числа від 1 до 9 на малюнку нижче. Будь обережним : сума кожного вирівнювання дорівнює 15.

Яке число буде по середині зірки ?

