

Ecole Maternelle Anatole France

Circonscription Epinay sur Seine

CL1 Mme Hassani & CL2 Mme Ait OUMARA




1



◆ Léo et Léa ont ensemble 12 billes. Léa a 2 billes de plus que Léo. Combien de billes a chaque enfant ?



◆ Une batte de base-ball et sa balle coûtent ensemble 11 €. La batte coûte 10 € de plus que la balle. Quel est le prix de la balle ?




1



◆ Léo et Léa ont ensemble 12 billes. Léa a 2 billes de plus que Léo. Combien de billes a chaque enfant ?



◆ Une batte de base-ball et sa balle coûtent ensemble 11 €. La batte coûte 10 € de plus que la balle. Quel est le prix de la balle ?



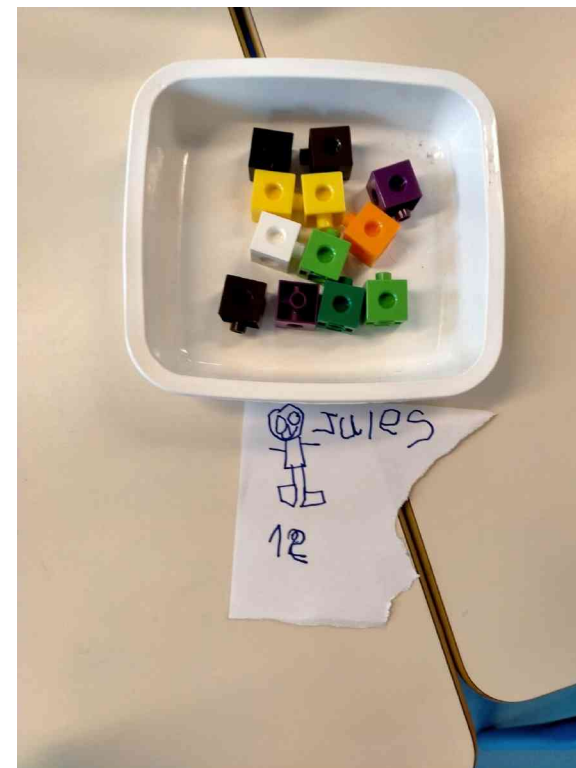


3



◆ Jules a 12 ans. Sa sœur, Sophie, a 7 ans de plus. Pierre la moitié de l'âge de Jules.
Quel âge a Sophie ? Quel âge a Pierre ?



◆ Julie a 21 ans. Sa sœur, Sophie, a le triple de l'âge de Pierre. Pierre a le tiers de l'âge de Julie.
Quel âge a Sophie ?




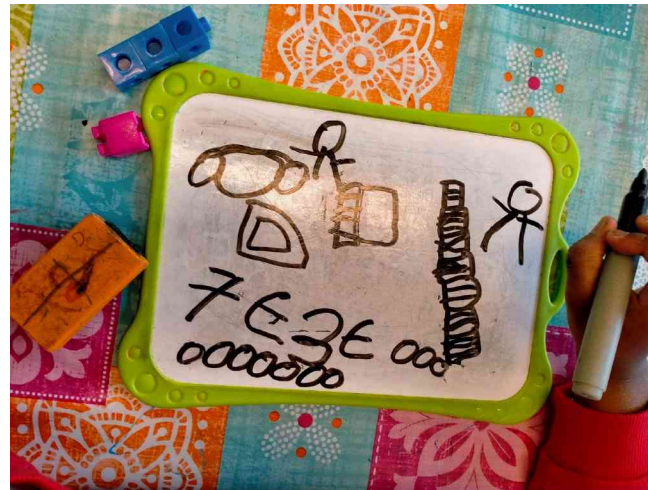

5



◆ Léo achète une trousse à 7 € et un classeur. Léa achète un classeur et une équerre. Elle paie 3 € de moins que Léo. Combien coûte l'équerre ?



◆ Dans ce magasin, un classeur, un compas et une équerre, valent 7€ de moins qu'un classeur et 2 compas qui coûtent 24 €. Le compas coûte 3 € de plus que le classeur. Quel est le prix de chaque objet ?



4

◆ Léo partage des bonbons avec 3 camarades : il garde la moitié du paquet pour lui et partage le reste équitablement.

Chaque enfant reçoit 6 bonbons.
Combien de bonbons contenait le paquet de Léo avant qu'il ne l'ouvre ?

