


CYCLE 1

LES AS



Dans un jeu de cartes, on appelle "couleur" une famille de cartes (pique, cœur, carreau et trèfle).

Trouve et nomme le plus de formes que tu reconnais sur les cartes.

Degré de
difficulté 1

Sur quelle « couleur » y a-t-il le plus de triangles ?

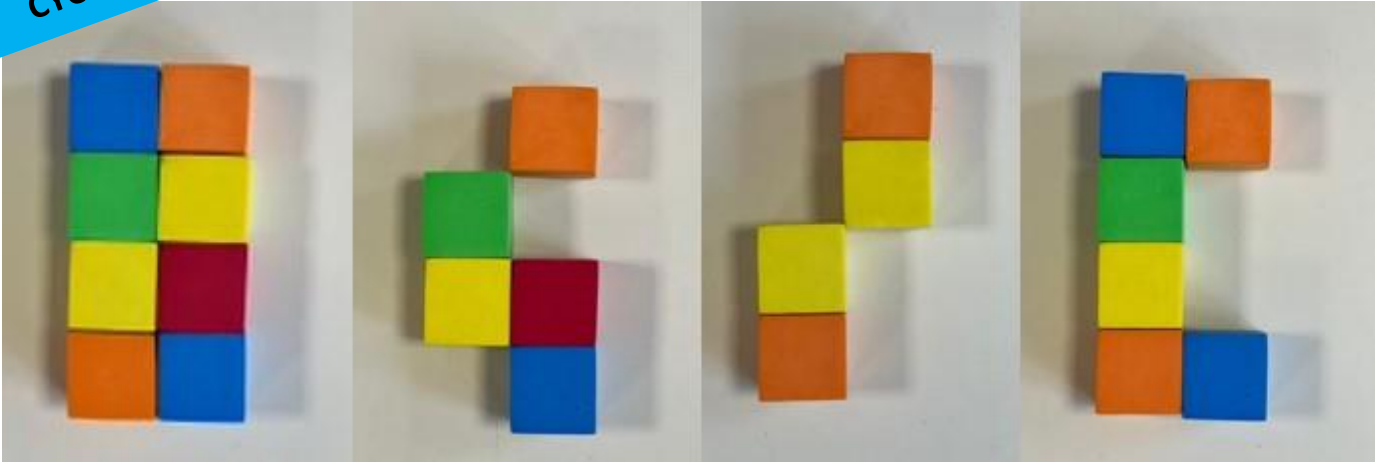
Degré de
difficulté 2

Utilise du matériel pour reproduire une des « couleurs ».

Degré de
difficulté 3

LES CUBES

CYCLE 1



Choisis une des constructions et reproduis-la avec du matériel.

Degré de
difficulté 1

Combien de pièces manque-t-il à chaque construction ?

Degré de
difficulté 2

Choisis un modèle. Dessine-le puis demande à un camarade de le reproduire avec du matériel.

Degré de
difficulté 3

CYCLE 1

LE GOÛTER



Regroupe les gâteaux qui se ressemblent : quelles familles as-tu trouvées ?

Degré de
difficulté 1

Si on enlève les gâteaux ronds, combien de gâteaux restera-t-il sur le plateau ?


Degré de
difficulté 2

Jeu du « qui est-ce ? »
Essaie de deviner l'objet mystère (choisi par ton camarade sur la photo) en lui posant des questions qui commencent par « est-ce que... ? », sans donner le nom de cet objet.

Degré de
difficulté 3

LES COLONNES

CYCLE 1



Trouve des ressemblances entre les colonnes.

Degré de
difficulté 1

Quelle sera la colonne la plus haute si on empile toutes les colonnes de même couleur?


Degré de
difficulté 2

Ilan dit qu'il y a plus de colonnes bleues que de colonnes orange. Célia n'est pas d'accord. Explique pourquoi.

Degré de
difficulté 3

CYCLE 1

LE TABLEAU



Quelles formes géométriques reconnais-tu sur ce tableau ?

Degré de
difficulté 1

Reproduis ce tableau avec le matériel qu'on te donne.

Degré de
difficulté 2

Jeu du "Devine-forme"

Choisis une des formes du tableau et décris-la (sans donner son nom) pour la faire deviner à tes camarades.

Degré de
difficulté 3

