


Il y a 5 chiens et 3 os.
Combien d'os faut-il ajouter
pour que chaque chien ait un
os ?



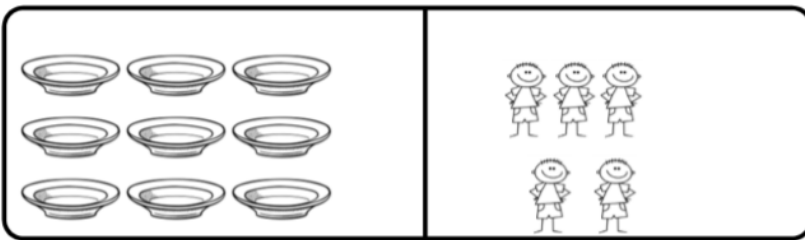
6 poules veulent aller couvrir
1 œuf chacune.
Il y a seulement 3 œufs.
Combien d'œufs doit-on
ajouter pour que chaque
poule couve un œuf ?



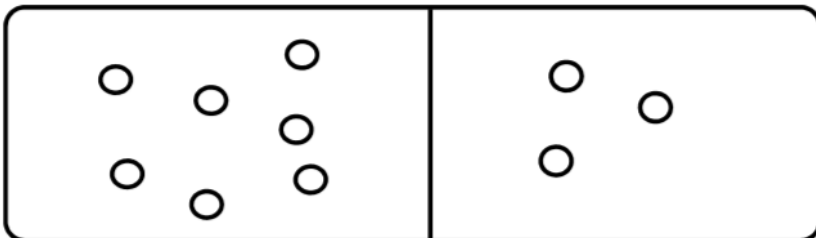
C'est la récréation. 8 élèves
veulent un vélo. La maitresse
n'a sorti que 2 vélos.
Combien de vélos doit-elle
encore sortir pour que
chaque élève ait un vélo ?



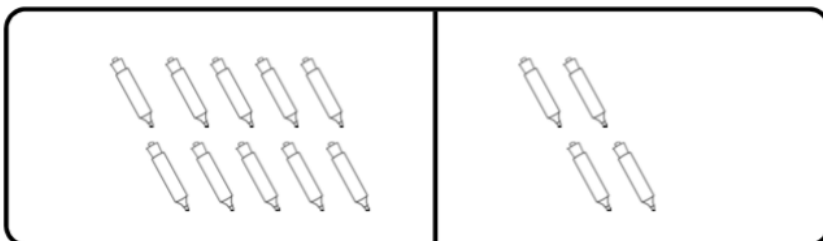
7 enfants sont dehors. Il fait
très froid. Ils veulent tous un
bonnet mais il n'y en a qu'un.
Combien de bonnets manque-
t-il ?



Pierre veut mettre la table
pour 5 personnes. Il a 9
assiettes.
Combien d'assiettes y a-t-il en
trop ?



Mélanie avait 7 billes. Elle a
perdu des billes pendant la
récréation. Il lui en reste 3.
Combien de billes a-t-elle
perdues ?



Dans la trousse de Jules, il y
a 10 feutres. 4 feutres ne
fonctionnent plus. Combien
de feutres fonctionnent
encore ?

Pierre avait 10 billes. Il en gagne 4 à la récréation. Combien en a-t-il maintenant ?

- 14
- 10
- 13
- 6
- 15
- 4

Sophie joue au jeu de l'oie. Elle est sur la case 9. Elle doit reculer de 7 cases. Sur quelle case va-t-elle arriver ?

- 1
- 17
- 9
- 2
- 7
- 16

Il y avait 12 verres fragiles dans la cuisine. Il n'en reste plus que 8. Combien de verres ont été cassés ?

- 5
- 4
- 8
- 12
- 3
- 20

Ma sœur a 5 ans de plus que moi. J'ai 6 ans. Quel âge ma sœur a-t-elle ?

- 5
- 1
- 12
- 10
- 6
- 11

Léo a 24 € dans son porte-monnaie. Il a 8 € de plus que Lilou. Combien d'euros Lilou a-t-elle ?

- 8
- 32
- 15
- 14
- 24
- 16



Problème : Dans le train qui va à Marseille, au départ de Paris, il y a 355 passagers. Après 2 heures de trajet, le train s'arrête à Lyon pour une escale. 185 personnes descendent du train et 130 y montent. Le train repart ensuite pour Marseille. Combien de passagers arrivent finalement à Marseille ?